

Constable GD in Central Armed Police Forces CAPFs SSF Rifleman GD in Assam Rifles Examination 2024

Roll Number	3013125578
Candidate Name	NITISH KUMAR
Venue Name	Purnodaya Mahila Mahavidyalaya
Exam Date	29/02/2024
Exam Time	11:30 AM - 12:30 PM
Subject	Constable GD Examination 2024

Section : Part-A-General Intelligence and Reasoning

Q.1 निम्नलिखित में से कौन-सी संख्या दी गई श्रृंखला में प्रश्न चिह्न (?) के स्थान पर आएगी?
126, 147, ?, 189, 210, 231

- Ans
- 1. 176
 - 2. 160
 - 3. 152
 - 4. 168

Question ID : 264330192279
Option 1 ID : 264330752473
Option 2 ID : 264330752471
Option 3 ID : 264330752470
Option 4 ID : 264330752472
Status : Answered
Chosen Option : 4

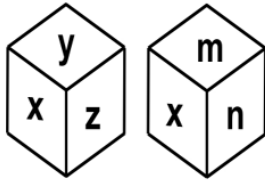
Q.2 निम्नलिखित प्रश्न में, दिए गए विकल्पों में से संबंधित अक्षर-युग्म का चयन कीजिए।

WZC : XAD :: ?

- Ans
- 1. ABB : BZU
 - 2. CGK : DHL
 - 3. PPV : VUL
 - 4. HAV : BUX

Question ID : 264330190191
Option 1 ID : 264330744348
Option 2 ID : 264330744346
Option 3 ID : 264330744347
Option 4 ID : 264330744349
Status : Answered
Chosen Option : 2

Q.3 नीचे एक ही पासे की दो अलग-अलग स्थितियां दी गई हैं। 'y' वाले फलक के विपरीत फलक पर क्या आएगा?



- Ans
- 1. p
 - 2. x
 - 3. z
 - 4. m

Question ID : 264330192085

Option 1 ID : 264330751695

Option 2 ID : 264330751694

Option 3 ID : 264330751697

Option 4 ID : 264330751696

Status : Answered

Chosen Option : 4

Q.4 दी गई विकल्प आकृतियों में से कौन-सी आकृति प्रश्न आकृति के पैटर्न को पूरा करेगी? (घूर्णन की अनुमति नहीं है)



Ans

- 1.
- 2.
- 3.
- 4.

Question ID : 264330187358

Option 1 ID : 264330733362

Option 2 ID : 264330733361

Option 3 ID : 264330733363

Option 4 ID : 264330733360

Status : Answered

Chosen Option : 3

Q.5 एक निश्चित कूट भाषा में, यदि 'France' को 'Italy' कहा जाता है, 'Italy' को 'Spain' कहा जाता है, 'Spain' को 'Greece' कहा जाता है 'Greece' को 'Germany' कहा जाता है, तो 'Eiffel Tower' कहाँ स्थित है?

- Ans**
- 1. Greece
 - 2. France
 - 3. Italy
 - 4. Germany

Question ID : 264330191112
 Option 1 ID : 264330747805
 Option 2 ID : 264330747802
 Option 3 ID : 264330747803
 Option 4 ID : 264330747804
 Status : Answered
 Chosen Option : 4

Q.6 निम्नलिखित में से कौन-सी संख्या दी गई श्रृंखला में प्रश्न चिह्न (?) के स्थान पर आएगी?
 14, 13, 15, 12, 16, 11, ?

- Ans**
- 1. 17
 - 2. 18
 - 3. 16
 - 4. 15

Question ID : 264330191119
 Option 1 ID : 264330747832
 Option 2 ID : 264330747831
 Option 3 ID : 264330747833
 Option 4 ID : 264330747830
 Status : Answered
 Chosen Option : 1

Q.7 दिए गए शब्दों को उसी क्रम में व्यवस्थित कीजिए, जिस क्रम में वे अंग्रेजी शब्दकोश में आते हैं।

1. Lid
2. Lick
3. Lien
4. Lie
5. Lieu

- Ans**
- 1. 2, 1, 4, 3, 5
 - 2. 1, 2, 4, 3, 5
 - 3. 2, 4, 1, 3, 5
 - 4. 1, 2, 3, 4, 5

Question ID : 264330190269
 Option 1 ID : 264330744658
 Option 2 ID : 264330744660
 Option 3 ID : 264330744659
 Option 4 ID : 264330744661
 Status : Answered
 Chosen Option : 1

Q.8 यदि $105 @ 100 * 6 \# 7 = 712$ और $108 @ 80 * 15 \# 60 = 1368$ है, तो $60 @ 45 * 16 \# 25 = ?$

- Ans 1. 805
 2. 900
 3. 870
 4. 450

Question ID : 264330187353
 Option 1 ID : 264330733340
 Option 2 ID : 264330733341
 Option 3 ID : 264330733342
 Option 4 ID : 264330733343
 Status : Answered
 Chosen Option : 1

Q.9 निम्नलिखित प्रश्न में, दिए गए विकल्पों में से संबंधित अक्षरों का चयन कीजिए।

QTW : MPS :: DGJ : ?

- Ans 1. RUV
 2. XTM
 3. WXX
 4. ZCF

Question ID : 264330187042
 Option 1 ID : 264330732097
 Option 2 ID : 264330732098
 Option 3 ID : 264330732099
 Option 4 ID : 264330732096
 Status : Answered
 Chosen Option : 4

Q.10 निम्नलिखित प्रश्न में कुछ कथन और उन कथनों के आधार पर कुछ निष्कर्ष दिए गए हैं। आपको दिए गए कथनों को सत्य मानना है, चाहे वे सामान्यतः ज्ञात तथ्यों से भिन्न प्रतीत होते हों। सभी निष्कर्षों को ध्यानपूर्वक पढ़िए और निश्चय कीजिए कि दिए गए निष्कर्षों में से कौन-सा/कौन-से निष्कर्ष कथनों का तार्किक रूप से अनुसरण करता है/करते हैं।

कथन:

I. कोई M, N नहीं है।

II. कुछ O, N हैं।

निष्कर्ष:

I. सभी O, M हैं।

II. कोई N, M नहीं है।

- Ans 1. केवल निष्कर्ष II कथनों का अनुसरण करता है
 2. कोई भी निष्कर्ष कथनों का अनुसरण नहीं करता है
 3. केवल निष्कर्ष I कथनों का अनुसरण करता है
 4. निष्कर्ष I और II दोनों कथनों का अनुसरण करते हैं

Question ID : 264330187109
 Option 1 ID : 264330732365
 Option 2 ID : 264330732367
 Option 3 ID : 264330732364
 Option 4 ID : 264330732366
 Status : Answered
 Chosen Option : 1

Q.11 दिए गए विकल्पों में से किन दो चिह्नों को आपस में बदलने पर निम्नलिखित समीकरण सही होगा?

$$29 + 12 - 4 \times 40 \div 5 = 49$$

- Ans
- ✓ 1. + और -
 - ✗ 2. × और -
 - ✗ 3. × और +
 - ✗ 4. + और ÷

Question ID : 264330192341

Option 1 ID : 264330752720

Option 2 ID : 264330752719

Option 3 ID : 264330752718

Option 4 ID : 264330752721

Status : Answered

Chosen Option : 1

Q.12 एक निश्चित कूट भाषा में, 'DAILY' को '50739' लिखा जाता है, 'EARLY' को '75834' लिखा जाता है, 'EVENT' को '42641' लिखा जाता है। उसी कूट भाषा में 'D' को कैसे लिखा जाएगा?

- Ans
- ✗ 1. 7
 - ✓ 2. 9
 - ✗ 3. 5
 - ✗ 4. 3

Question ID : 264330191334

Option 1 ID : 264330748691

Option 2 ID : 264330748693

Option 3 ID : 264330748690

Option 4 ID : 264330748692

Status : Answered

Chosen Option : 2

Q.13 एक आदमी की तस्वीर की ओर इशारा करते हुए, राम ने कहा, "वह मेरे बेटे के दादा का भाई है"। वह आदमी राम से किस प्रकार संबंधित है?

- Ans
- ✓ 1. पिता का भाई
 - ✗ 2. भाई
 - ✗ 3. पिता
 - ✗ 4. बेटा

Question ID : 264330187346

Option 1 ID : 264330733313

Option 2 ID : 264330733312

Option 3 ID : 264330733315

Option 4 ID : 264330733314

Status : Answered

Chosen Option : 1

Q.14 पांच व्यक्ति A, B, C, D और E एक वृत्ताकार मेज के चारों ओर केंद्र की ओर मुख करके बैठे हैं (परंतु जरूरी नहीं कि वे इसी क्रम में बैठे हों)। D और A का निकटतम पड़ोसी C नहीं है। B, E के दाईं ओर से दूसरे स्थान पर बैठा है। A, E के बाईं ओर से दूसरे स्थान पर बैठा है। C के ठीक दाईं ओर कौन बैठा है?

- Ans**
- 1. D
 - 2. E
 - 3. B
 - 4. A

Question ID : 264330190215

Option 1 ID : 264330744444

Option 2 ID : 264330744445

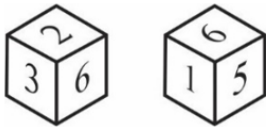
Option 3 ID : 264330744442

Option 4 ID : 264330744443

Status : Answered

Chosen Option : 3

Q.15 नीचे एक पासे की दो स्थितियां दी गई हैं। '5' वाले फलक के विपरीत फलक पर निम्नलिखित विकल्पों में से क्या आएगा?



- Ans**
- 1. 3
 - 2. 4
 - 3. 2
 - 4. 1

Question ID : 264330191405

Option 1 ID : 264330748974

Option 2 ID : 264330748976

Option 3 ID : 264330748975

Option 4 ID : 264330748977

Status : Answered

Chosen Option : 2

Q.16 नीचे एक श्रृंखला दी गई है जिसमें एक पद लुप्त है। दिए गए विकल्पों में से उस विकल्प का चयन कीजिए जो श्रृंखला को पूरा करेगा।

NRHD, RVLH, VZPL, ZDTP, ?

- Ans**
- 1. DHXT
 - 2. DTNR
 - 3. DQPT
 - 4. DTCM

Question ID : 264330191528

Option 1 ID : 264330749467

Option 2 ID : 264330749469

Option 3 ID : 264330749466

Option 4 ID : 264330749468

Status : Answered

Chosen Option : 1

Q.17 निम्नलिखित अक्षर समूहों में से अक्षरों का कौन-सा समूह क्रमबद्ध रूप से बाईं से दाईं ओर रखे जाने पर नीचे दी गई श्रृंखला को पूरा करेगा?

r_tuvrstuvr_tuvrstuvrstuvr_tuvrstuvrst_v

- Ans** ✓ 1. SSSU
 ✗ 2. utvu
 ✗ 3. tust
 ✗ 4. suvt

Question ID : 264330191349

Option 1 ID : 264330748750

Option 2 ID : 264330748751

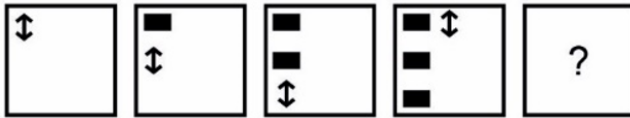
Option 3 ID : 264330748753

Option 4 ID : 264330748752

Status : Answered

Chosen Option : 1

Q.18 निम्नलिखित प्रश्न में, दिए गए विकल्पों में से उस आकृति का चयन कीजिए जिसे प्रश्न चिह्न (?) के स्थान पर रखा जा सकता है।



Ans

- ✓ 1.
- ✗ 2.
- ✗ 3.
- ✗ 4.

Question ID : 264330187094

Option 1 ID : 264330732306

Option 2 ID : 264330732305

Option 3 ID : 264330732304

Option 4 ID : 264330732307

Status : Answered

Chosen Option : 1

Q.19 आठ मित्र A, B, C, D, E, F, G और H एक सीधी पंक्ति में उत्तर की ओर मुख करके बैठे हैं, परंतु जरूरी नहीं कि वे इसी क्रम में बैठे हों। B, F के दाईं ओर से दूसरे स्थान पर बैठा है। F पंक्ति के किसी एक अंतिम छोर पर बैठा है। B और E के बीच में केवल तीन व्यक्ति बैठे हैं। C, D की बाईं ओर से तीसरे स्थान पर बैठा है। D और A के बीच में केवल दो व्यक्ति बैठे हैं। G, E का निकटतम पड़ोसी नहीं है। B के ठीक बाईं ओर कौन बैठा है?

- Ans**
1. A
2. G
3. C
4. F

Question ID : 264330187348

Option 1 ID : 264330733323

Option 2 ID : 264330733322

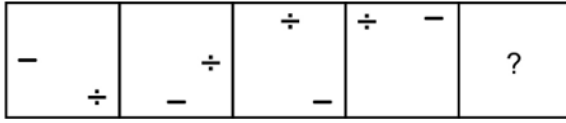
Option 3 ID : 264330733321

Option 4 ID : 264330733320

Status : Answered

Chosen Option : 1

Q.20 उस आकृति का चयन कीजिए, जो निम्नलिखित आकृति श्रृंखला में प्रश्न चिह्न (?) के स्थान पर आएगी।



Ans

1.



2.



3.



4.



Question ID : 264330191123

Option 1 ID : 264330747848

Option 2 ID : 264330747846

Option 3 ID : 264330747849

Option 4 ID : 264330747847

Status : Answered

Chosen Option : 2

Section : Part-B-General Knowledge and General awareness

Q.1 निम्नलिखित में से किस भारतीय संगीतकार को उनके फिल्म और मंच के लिए किए गए व्यापक काम से "मोजार्ट ऑफ मद्रास (Mozart of Madras)" का उपनाम मिला?

- Ans**
- 1. ज़ाकिर हुसैन
 - 2. ए. आर. रहमान
 - 3. रविशंकर
 - 4. सोनू निगम

Question ID : 264330191858

Option 1 ID : 264330750787

Option 2 ID : 264330750789

Option 3 ID : 264330750788

Option 4 ID : 264330750786

Status : Answered

Chosen Option : 1

Q.2 भारतीय मुसलमानों ने _____ के नेतृत्व में खिलाफत आंदोलन शुरू किया, जो अली बंधुओं के नाम से लोकप्रिय थे।

- Ans**
- 1. मोहम्मद अली और अहमद अली
 - 2. फ़िरोज़ अली और शौकत अली
 - 3. मोहम्मद अली और शौकत अली
 - 4. मोहम्मद अली और सैय्यद अली

Question ID : 264330190856

Option 1 ID : 264330746778

Option 2 ID : 264330746780

Option 3 ID : 264330746779

Option 4 ID : 264330746781

Status : Answered

Chosen Option : 3

Q.3 भारतीय संविधान के निम्नलिखित में से किस अनुच्छेद में 'राज्यपाल द्वारा राज्य के विधानमंडल को विशेष संबोधन' का उल्लेख है?

- Ans**
- 1. अनुच्छेद 175
 - 2. अनुच्छेद 176
 - 3. अनुच्छेद 171
 - 4. अनुच्छेद 173

Question ID : 264330188865

Option 1 ID : 264330739263

Option 2 ID : 264330739262

Option 3 ID : 264330739265

Option 4 ID : 264330739264

Status : Answered

Chosen Option : 3

Q.4 संयुक्त राष्ट्र ने _____ को 'अंतर्राष्ट्रीय सूक्ष्म-ऋण वर्ष (International Year of Micro Credit)' के रूप में नामित किया है।

- Ans
- 1. 2003
 - 2. 2001
 - 3. 2005
 - 4. 2007

Question ID : 264330191084
Option 1 ID : 264330747691
Option 2 ID : 264330747690
Option 3 ID : 264330747692
Option 4 ID : 264330747693
Status : Answered
Chosen Option : 2

Q.5 जून 2023 में, जनार्दन प्रसाद को _____ का नया महानिदेशक नियुक्त किया गया है?

- Ans
- 1. भारत हेवी इलेक्ट्रिकल्स लिमिटेड (BHEL)
 - 2. स्टील अथॉरिटी ऑफ इंडिया लिमिटेड (SAIL)
 - 3. तेल एवं प्राकृतिक गैस निगम लिमिटेड (ONGC)
 - 4. भारतीय भूवैज्ञानिक सर्वेक्षण (GSI)

Question ID : 264330188833
Option 1 ID : 264330739135
Option 2 ID : 264330739134
Option 3 ID : 264330739136
Option 4 ID : 264330739137
Status : Answered
Chosen Option : 2

Q.6 प्रथम पंचवर्षीय योजना की समयावधि निम्नलिखित में से कौन-सी है?

- Ans
- 1. 1961-1966
 - 2. 1966-1969
 - 3. 1956-1961
 - 4. 1951- 1956

Question ID : 264330191227
Option 1 ID : 264330748264
Option 2 ID : 264330748265
Option 3 ID : 264330748263
Option 4 ID : 264330748262
Status : Answered
Chosen Option : 4

Q.7 भारत की 2011 की जनगणना के अनुसार, देश में ईसाई जनसंख्या का कुल प्रतिशत कितना है?

- Ans
- ✓ 1. 2.3 प्रतिशत
 - ✗ 2. 0.3 प्रतिशत
 - ✗ 3. 1.3 प्रतिशत
 - ✗ 4. 3.3 प्रतिशत

Question ID : 264330191033
Option 1 ID : 264330747488
Option 2 ID : 264330747486
Option 3 ID : 264330747487
Option 4 ID : 264330747489
Status : Answered
Chosen Option : 1

Q.8 _____ को जून, 2023 में भारत की बाहरी खुफिया एजेंसी, रिसर्च एंड एनालिसिस विंग (Research & Analysis Wing - RAW) का नया प्रमुख नियुक्त किया गया है।

- Ans
- ✗ 1. अनिल धस्माना (Anil Dhasmana)
 - ✓ 2. रवि सिन्हा (Ravi Sinha)
 - ✗ 3. आलोक जोशी (Alok Joshi)
 - ✗ 4. सामंत गोयल (Samant Goel)

Question ID : 264330191290
Option 1 ID : 264330748514
Option 2 ID : 264330748517
Option 3 ID : 264330748515
Option 4 ID : 264330748516
Status : Answered
Chosen Option : 2

Q.9 'यक्षगान' का संबंध निम्नलिखित में से किस राज्य से है?

- Ans
- ✗ 1. महाराष्ट्र
 - ✗ 2. तमिलनाडु
 - ✗ 3. ओडिशा
 - ✓ 4. कर्नाटक

Question ID : 264330188775
Option 1 ID : 264330738902
Option 2 ID : 264330738905
Option 3 ID : 264330738903
Option 4 ID : 264330738904
Status : Answered
Chosen Option : 1

Q.10 भारत की 2011 की जनगणना के अनुसार, शहरी जनसंख्या, कुल जनसंख्या का कितना प्रतिशत है?

- Ans
- ✓ 1. 31.2 प्रतिशत
 - ✗ 2. 37.2 प्रतिशत
 - ✗ 3. 39.2 प्रतिशत
 - ✗ 4. 35.2 प्रतिशत

Question ID : 264330190634
Option 1 ID : 264330746118
Option 2 ID : 264330746120
Option 3 ID : 264330746121
Option 4 ID : 264330746119
Status : Answered
Chosen Option : 2

Q.11 निम्नलिखित में से कौन-सा प्राचीन ग्रंथ, जिसका श्रेय ऋषि व्यास को जाता है, प्राचीन भारत का एक प्रमुख महाकाव्य है और इसमें 18 पर्वों (पुस्तकों) में 100,000 छंद हैं?

- Ans
- ✗ 1. ऋग्वेद
 - ✗ 2. अर्थशास्त्र
 - ✓ 3. महाभारत
 - ✗ 4. रामायण

Question ID : 264330191496
Option 1 ID : 264330749339
Option 2 ID : 264330749338
Option 3 ID : 264330749341
Option 4 ID : 264330749340
Status : Answered
Chosen Option : 3

Q.12 नई विदेश व्यापार नीति 31 मार्च, 2023 को लॉन्च की गई थी और _____, 2023 से लागू हुई।

- Ans
- ✗ 1. 1 मई
 - ✗ 2. 1 जून
 - ✓ 3. 1 अप्रैल
 - ✗ 4. 1 जुलाई

Question ID : 264330188870
Option 1 ID : 264330739283
Option 2 ID : 264330739284
Option 3 ID : 264330739282
Option 4 ID : 264330739285
Status : Answered
Chosen Option : 3

Q.13 ICC पुरुष T20 विश्व कप 2022 की मेजबानी निम्नलिखित में से किस देश द्वारा की गई थी?

- Ans
- 1. भारत
 - 2. ऑस्ट्रेलिया
 - 3. संयुक्त अरब अमीरात
 - 4. इंग्लैंड

Question ID : 264330188666
Option 1 ID : 264330738468
Option 2 ID : 264330738466
Option 3 ID : 264330738469
Option 4 ID : 264330738467
Status : Answered
Chosen Option : 1

Q.14 अपर्णा पोपट (Aparna Popat) निम्नलिखित में से कौन-सा खेल खेलती हैं?

- Ans
- 1. बैडमिंटन (Badminton)
 - 2. क्रिकेट (Cricket)
 - 3. वॉलीबॉल (Volleyball)
 - 4. टेबल टेनिस (Table Tennis)

Question ID : 264330192043
Option 1 ID : 264330751527
Option 2 ID : 264330751526
Option 3 ID : 264330751528
Option 4 ID : 264330751529
Status : Answered
Chosen Option : 1

Q.15 तैराकी में, " नियमविरुद्ध प्रारम्भ (false start)" के लिए कितनी चेतावनियां होती हैं?

- Ans
- 1. 0
 - 2. 2
 - 3. 6
 - 4. 4

Question ID : 264330190643
Option 1 ID : 264330746156
Option 2 ID : 264330746155
Option 3 ID : 264330746157
Option 4 ID : 264330746154
Status : Answered
Chosen Option : 2

Q.16 2023 में स्वास्थ्य और परिवार कल्याण मंत्रालय द्वारा निम्न से कौन-सी योजना शुरू नहीं की गई है?

- Ans
- 1. राष्ट्रीय डिजिटल स्वास्थ्य मिशन
 - 2. समग्र मिशन इंद्रधनुष 3.0
 - 3. मध्याह्न भोजन
 - 4. आयुष्मान भारत प्रधानमंत्री जन आरोग्य योजना

Question ID : 264330191728
Option 1 ID : 264330750266
Option 2 ID : 264330750269
Option 3 ID : 264330750267
Option 4 ID : 264330750268
Status : Answered
Chosen Option : 3

Q.17 मौलिक अधिकारों का उल्लेख भारतीय संविधान के किस भाग में किया गया है?

- Ans
- 1. भाग III
 - 2. भाग IV
 - 3. भाग I
 - 4. भाग II

Question ID : 264330191059
Option 1 ID : 264330747592
Option 2 ID : 264330747593
Option 3 ID : 264330747590
Option 4 ID : 264330747591
Status : Answered
Chosen Option : 2

Q.18 ठोस कार्बन डाइऑक्साइड का दूसरा नाम क्या है?

- Ans
- 1. शुष्क बर्फ
 - 2. सामान्य ताप पर बर्फ
 - 3. जमी हुई बर्फ
 - 4. सफेद बर्फ

Question ID : 264330190792
Option 1 ID : 264330746522
Option 2 ID : 264330746524
Option 3 ID : 264330746523
Option 4 ID : 264330746525
Status : Answered
Chosen Option : 1

Q.19 बैसाखी _____ राज्य का त्योहार है।

- Ans
- 1. मणिपुर
 - 2. हरियाणा
 - 3. महाराष्ट्र
 - 4. गुजरात

Question ID : 264330191952
 Option 1 ID : 264330751164
 Option 2 ID : 264330751162
 Option 3 ID : 264330751165
 Option 4 ID : 264330751163
 Status : Answered
 Chosen Option : 2

Q.20 निम्नलिखित में से कौन मोहिनी अट्टम के/की दिग्गज थे/थीं, जिनकी फरवरी 2023 में मृत्यु हो गई?

- Ans
- 1. शोभा नायडू (Shobha Naidu)
 - 2. केलुचरण महापात्र (Kelucharan Mohapatra)
 - 3. गद्दाम पद्मजा (Gaddam Padmaja)
 - 4. कनक रेले (Kanak Rele)

Question ID : 264330190778
 Option 1 ID : 264330746468
 Option 2 ID : 264330746467
 Option 3 ID : 264330746469
 Option 4 ID : 264330746466
 Status : Answered
 Chosen Option : 2

Section : Part-C-Elementary Mathematics

Q.1 एक मिश्रण में पानी और वाइन का अनुपात 7 : 19 है। यदि मिश्रण में पानी की तुलना में 12 लीटर अधिक वाइन है, तो मिश्रण में वाइन की मात्रा कितना होगी?

- Ans
- 1. 12 लीटर
 - 2. 7 लीटर
 - 3. 19 लीटर
 - 4. 16 लीटर

Question ID : 264330187691
 Option 1 ID : 264330734693
 Option 2 ID : 264330734694
 Option 3 ID : 264330734692
 Option 4 ID : 264330734695
 Status : Answered
 Chosen Option : 3

Q.2 P1, P2 और P3 तीन विद्यार्थी हैं। P1 को P2 से 62.5 प्रतिशत कम अंक और P3 से 70 प्रतिशत अधिक अंक प्राप्त हुए। यदि P2 को 8160 अंक प्राप्त हुए, तो P3 को कितने अंक प्राप्त हुए?

- Ans**
- 1. 1780
 - 2. 1700
 - 3. 1800
 - 4. 1880

Question ID : 264330191615

Option 1 ID : 264330749815

Option 2 ID : 264330749817

Option 3 ID : 264330749816

Option 4 ID : 264330749814

Status : Answered

Chosen Option : 1

Q.3 25 प्रतिशत की छूट देने के बाद एक वस्तु 5550 रुपए में बेची जाती है। वस्तु का अंकित मूल्य कितना है?

- Ans**
- 1. 7200 रुपए
 - 2. 7400 रुपए
 - 3. 7000 रुपए
 - 4. 7500 रुपए

Question ID : 264330187729

Option 1 ID : 264330734847

Option 2 ID : 264330734844

Option 3 ID : 264330734846

Option 4 ID : 264330734845

Status : Answered

Chosen Option : 2

Q.4 सौरभ अंकित मूल्य से 26% कम पर एक अंगूठी खरीदता है और उसे अंकित मूल्य से 10% अधिक पर बेच देता है। उसके द्वारा अर्जित अनुमानित लाभ ज्ञात कीजिए।

- Ans**
- 1. 49.9%
 - 2. 48.6%
 - 3. 45.2%
 - 4. 46.7%

Question ID : 264330192297

Option 1 ID : 264330752545

Option 2 ID : 264330752544

Option 3 ID : 264330752542

Option 4 ID : 264330752543

Status : Answered

Chosen Option : 1

Q.5 $415 \div 5 - 44 \times 2 \div 8 + 53$ का मान कितना है?

- Ans 1. 125
 2. 138
 3. 132
 4. 128

Question ID : 264330187639
 Option 1 ID : 264330734484
 Option 2 ID : 264330734487
 Option 3 ID : 264330734486
 Option 4 ID : 264330734485
 Status : Answered
 Chosen Option : 1

Q.6 एक वस्तु का क्रय मूल्य 440 रुपए है। यदि लाभ प्रतिशत 18 प्रतिशत है, तो लाभ का मूल्य कितना है?

- Ans 1. 82.5 रुपए
 2. 79.2 रुपए
 3. 75.6 रुपए
 4. 78.2 रुपए

Question ID : 264330187727
 Option 1 ID : 264330734836
 Option 2 ID : 264330734837
 Option 3 ID : 264330734838
 Option 4 ID : 264330734839
 Status : Answered
 Chosen Option : 2

Q.7 दो लोगों को ₹ 600 की धनराशि उधार दी गई, एक को 5% की वार्षिक दर से और दूसरे को 13% की वार्षिक दर से। यदि एक वर्ष के बाद साधारण ब्याज ₹ 62 है, तो प्रत्येक दर पर उधार दी गई धनराशि ज्ञात कीजिए।

- Ans 1. ₹ 100 और ₹ 500
 2. ₹ 250 और ₹ 350
 3. ₹ 150 और ₹ 450
 4. ₹ 200 और ₹ 400

Question ID : 264330188428
 Option 1 ID : 264330737581
 Option 2 ID : 264330737582
 Option 3 ID : 264330737583
 Option 4 ID : 264330737580
 Status : Answered
 Chosen Option : 3

Q.8 एक त्रिभुज का क्षेत्रफल 1470 cm^2 है। यदि इस त्रिभुज का आधार, उस आधार के संगत ऊँचाई का $(3/5)$ वाँ भाग है, तो त्रिभुज की ऊँचाई कितनी होगी?

- Ans**
- 1. 72 cm
 - 2. 70 cm
 - 3. 63 cm
 - 4. 69 cm

Question ID : 264330191707
Option 1 ID : 264330750184
Option 2 ID : 264330750183
Option 3 ID : 264330750182
Option 4 ID : 264330750185
Status : Answered
Chosen Option : 4

Q.9 यदि D किसी काम का 10 प्रतिशत भाग 3 दिन में पूरा कर सकता है, तो D संपूर्ण काम कितने दिनों में पूरा कर सकता है?

- Ans**
- 1. 42 दिन
 - 2. 31 दिन
 - 3. 30 दिन
 - 4. 36 दिन

Question ID : 264330188549
Option 1 ID : 264330738001
Option 2 ID : 264330737999
Option 3 ID : 264330737998
Option 4 ID : 264330738000
Status : Answered
Chosen Option : 3

Q.10 $8400 \div 2 - 2100 + 15 \times 8$ का मान कितना है?

- Ans**
- 1. 2280
 - 2. 2120
 - 3. 2220
 - 4. 2060

Question ID : 264330187479
Option 1 ID : 264330733847
Option 2 ID : 264330733845
Option 3 ID : 264330733846
Option 4 ID : 264330733844
Status : Answered
Chosen Option : 3

Q.11 $\frac{98}{56}$ of $\left(\frac{63}{7} + \frac{35}{5}\right) \div \frac{7}{49}$ का मान कितना है?

- Ans 1. 196
 2. 98
 3. 63
 4. 49

Question ID : 264330187240
Option 1 ID : 264330732891
Option 2 ID : 264330732889
Option 3 ID : 264330732890
Option 4 ID : 264330732888
Status : Answered
Chosen Option : 1

Q.12 60 विद्यार्थियों के एक समूह में, 50% इतिहास में रुचि रखते हैं, और शेष भूगोल में रुचि रखते हैं। यदि इतिहास का औसत स्कोर 85 है, और भूगोल का औसत स्कोर 75 है, तो पूरे समूह के लिए औसत स्कोर कितना है?

- Ans 1. 89
 2. 80
 3. 77
 4. 64

Question ID : 264330191192
Option 1 ID : 264330748124
Option 2 ID : 264330748125
Option 3 ID : 264330748122
Option 4 ID : 264330748123
Status : Answered
Chosen Option : 2

Q.13 वह न्यूनतम संख्या कौन-सी है, जिसे 15, 80, 20 और 75 से भाग देने पर प्रत्येक स्थिति में 14 शेषफल बचता है?

- Ans 1. 1455
 2. 1244
 3. 1214
 4. 1245

Question ID : 264330188555
Option 1 ID : 264330738023
Option 2 ID : 264330738022
Option 3 ID : 264330738024
Option 4 ID : 264330738025
Status : Answered
Chosen Option : 3

Q.14 20000 रुपए का मूलधन 9 प्रतिशत वार्षिक की दर से चक्रवृद्धि ब्याज (वार्षिक रूप से संयोजित) पर ऋण पर लिया जाता है। 2 वर्ष बाद धनराशि कितनी होगी?

- Ans**
- 1. Rs. 25500
 - 2. Rs. 23762
 - 3. Rs. 24840
 - 4. Rs. 23789

Question ID : 264330191623
Option 1 ID : 264330749846
Option 2 ID : 264330749848
Option 3 ID : 264330749849
Option 4 ID : 264330749847
Status : Answered
Chosen Option : 1

Q.15 एक वस्तु का क्रय मूल्य, अंकित मूल्य का 60 प्रतिशत है। अंकित मूल्य पर 4 प्रतिशत की छूट देने के बाद लाभ प्रतिशत कितना होगा?

- Ans**
- 1. 40 प्रतिशत
 - 2. 30 प्रतिशत
 - 3. 60 प्रतिशत
 - 4. 50 प्रतिशत

Question ID : 264330187930
Option 1 ID : 264330735648
Option 2 ID : 264330735649
Option 3 ID : 264330735650
Option 4 ID : 264330735651
Status : Answered
Chosen Option : 1

Q.16 W, X और Y की औसत ऊंचाई 185 cm है। यदि W और X की औसत ऊंचाई 153 cm है तथा X और Y की औसत ऊंचाई 152 cm है, तो X की ऊंचाई कितनी है?

- Ans**
- 1. 57 cm
 - 2. 60 cm
 - 3. 55 cm
 - 4. 61 cm

Question ID : 264330187483
Option 1 ID : 264330733861
Option 2 ID : 264330733862
Option 3 ID : 264330733860
Option 4 ID : 264330733863
Status : Answered
Chosen Option : 4

Q.17 दो संख्याओं के बीच का अनुपात 7 : 8 है। यदि प्रत्येक संख्या में 4 की वृद्धि की जाती है, तो अनुपात 9 : 10 हो जाता है, तो संख्याओं के बीच का अंतर ज्ञात कीजिए।

- Ans**
- 1. 8
 - 2. 2
 - 3. 10
 - 4. 4

Question ID : 264330191661
 Option 1 ID : 264330750000
 Option 2 ID : 264330749999
 Option 3 ID : 264330750001
 Option 4 ID : 264330749998
 Status : Answered
 Chosen Option : 1

Q.18 तीन मित्र एक पहेली को 4 घंटे में पूरा कर सकते हैं। यदि वे मदद के लिए दो और मित्रों को बुलाते हैं, तो उन्हें उसी पहेली को पूरा करने में कितना समय लगेगा?

- Ans**
- 1. 132 मिनट
 - 2. 120 मिनट
 - 3. 144 मिनट
 - 4. 130 मिनट

Question ID : 264330190745
 Option 1 ID : 264330746412
 Option 2 ID : 264330746413
 Option 3 ID : 264330746410
 Option 4 ID : 264330746411
 Status : Answered
 Chosen Option : 2

Q.19 यदि कोई रेलगाड़ी अपनी मूल चाल की 6/7वीं चाल से चलती है, तो वह स्टेशन पर 20 मिनट देरी से पहुंचती है। दूरी तय करने में रेलगाड़ी द्वारा लिया गया सामान्य समय ज्ञात कीजिए।

- Ans**
- 1. 140 मिनट
 - 2. 120 मिनट
 - 3. 144 मिनट
 - 4. 100 मिनट

Question ID : 264330191664
 Option 1 ID : 264330750012
 Option 2 ID : 264330750010
 Option 3 ID : 264330750011
 Option 4 ID : 264330750013
 Status : Answered
 Chosen Option : 1

Q.20 यदि $X = 50$ और $Y = 25$ है, तो X, Y से कितने प्रतिशत अधिक है?

- Ans
- 1. 105 प्रतिशत
 - 2. 110 प्रतिशत
 - 3. 90 प्रतिशत
 - 4. 100 प्रतिशत

Question ID : 264330187545
 Option 1 ID : 264330734111
 Option 2 ID : 264330734109
 Option 3 ID : 264330734108
 Option 4 ID : 264330734110
 Status : Answered
 Chosen Option : 4

Section : Part-D-English

Q.1 Select the most appropriate word to fill in the blank.

Without a _____ package, our economy's going to go down the tubes.

- Ans
- 1. stimulating
 - 2. stimulated
 - 3. stimulant
 - 4. stimulus

Question ID : 264330185797
 Option 1 ID : 264330727523
 Option 2 ID : 264330727521
 Option 3 ID : 264330727520
 Option 4 ID : 264330727522
 Status : Not Answered
 Chosen Option : --

Q.2 Choose the word that is opposite in meaning to the given word.

Acquire

- Ans
- 1. Barter
 - 2. Reach
 - 3. Discard
 - 4. Garner

Question ID : 264330185869
 Option 1 ID : 264330727795
 Option 2 ID : 264330727793
 Option 3 ID : 264330727792
 Option 4 ID : 264330727794
 Status : Not Answered
 Chosen Option : --

Q.3 Select the most appropriate option for the given blank.

We are _____ of flour. So, we have to buy the bread.

- Ans
- 1. in
 - 2. up
 - 3. out
 - 4. by

Question ID : 264330185629
Option 1 ID : 264330726883
Option 2 ID : 264330726882
Option 3 ID : 264330726880
Option 4 ID : 264330726881
Status : Not Answered
Chosen Option : --

Q.4 Identify the segment that contains a grammatical error. If there is no error, select 'No error'.

It kept getting darker and darker, / and we could rarely see / the ball any more.

- Ans
- 1. the ball any more.
 - 2. It kept getting darker and darker,
 - 3. No error
 - 4. and we could rarely see

Question ID : 264330186822
Option 1 ID : 264330731426
Option 2 ID : 264330731424
Option 3 ID : 264330731427
Option 4 ID : 264330731425
Status : Not Answered
Chosen Option : --

Q.5 Choose the most appropriate antonym of the underlined word.

Why is there fascination, dissection, and constant conversation whenever Beyoncé or any female celebrity changes her hair?

- Ans
- 1. Repulsion
 - 2. Allure
 - 3. Appeal
 - 4. Spell

Question ID : 264330185786
Option 1 ID : 264330727477
Option 2 ID : 264330727476
Option 3 ID : 264330727478
Option 4 ID : 264330727479
Status : Not Answered
Chosen Option : --

Q.6 Choose the word that is opposite in meaning to the given word.

Successful

- Ans
- 1. Vagary
 - 2. Vile
 - 3. Vestige
 - 4. Hopeless

Question ID : 264330185659
Option 1 ID : 264330726995
Option 2 ID : 264330726993
Option 3 ID : 264330726992
Option 4 ID : 264330726994
Status : Not Answered
Chosen Option : --

Q.7 Select the incorrectly spelt word from the given sentence.

While he stood, in the cluch of his adversary, he still held his hand on his sword.

- Ans
- 1. sword
 - 2. While
 - 3. cluch
 - 4. adversary

Question ID : 264330185852
Option 1 ID : 264330727731
Option 2 ID : 264330727728
Option 3 ID : 264330727729
Option 4 ID : 264330727730
Status : Not Answered
Chosen Option : --

Q.8 Choose the word that means the same as the given word.

Competent

- Ans
- 1. Gullible
 - 2. Untried
 - 3. Widened
 - 4. Qualified

Question ID : 264330186772
Option 1 ID : 264330731233
Option 2 ID : 264330731234
Option 3 ID : 264330731232
Option 4 ID : 264330731235
Status : Not Answered
Chosen Option : --

Q.9 Improve the underlined part of the sentence. Choose 'No improvement' as an answer if the sentence is grammatically correct.

Season the meat with salt and pepper, and then fry it in a hot pan.

- Ans**
- ✓ 1. No improvement
 - ✗ 2. to hotter pan
 - ✗ 3. at a heat pan
 - ✗ 4. in a hottest pan

Question ID : 264330185985
Option 1 ID : 264330728239
Option 2 ID : 264330728237
Option 3 ID : 264330728238
Option 4 ID : 264330728236
Status : Not Answered
Chosen Option : --

Q.10 Find the part of the given sentence that has an error in it. If there is no error, choose 'No error'.

My nephew is the most naughtiest kid on this Earth.

- Ans**
- ✓ 1. My nephew is the most
 - ✗ 2. No error
 - ✗ 3. naughtiest kid
 - ✗ 4. on this Earth.

Question ID : 264330185625
Option 1 ID : 264330726864
Option 2 ID : 264330726867
Option 3 ID : 264330726865
Option 4 ID : 264330726866
Status : Not Answered
Chosen Option : --

Q.11 Select the most appropriate meaning of the given idiom

Leave no stone unturned

- Ans**
- ✓ 1. Make all possible efforts
 - ✗ 2. To act in a frenzied manner
 - ✗ 3. To share a secret that wasn't suppose to be shared
 - ✗ 4. The final event in a series of unacceptable actions

Question ID : 264330186461
Option 1 ID : 264330730048
Option 2 ID : 264330730051
Option 3 ID : 264330730050
Option 4 ID : 264330730049
Status : Not Answered
Chosen Option : --

Q.12 Identify the segment that contains a grammatical error. If there is no error, select 'No error'.

I am shocked as I saw her / yesterday, I was horrified / when I saw her today.

- Ans**
- 1. yesterday, I was horrified
 - 2. I am shocked as I saw her
 - 3. No error
 - 4. when I saw her today.

Question ID : 264330186824
 Option 1 ID : 264330731433
 Option 2 ID : 264330731432
 Option 3 ID : 264330731435
 Option 4 ID : 264330731434
 Status : Not Answered
 Chosen Option : --

Q.13 Select the word segment that substitutes (replaces) the bracketed word segment correctly and completes the sentence meaningfully. Select the option 'no correction required' if the sentence is correct as given.

At last Godfrey (turning his head against her), and their eyes met, dwelling in that meeting without any movement on either side.

- Ans**
- 1. no correction required
 - 2. turned his head toward her
 - 3. turning his head for their
 - 4. turn his head along

Question ID : 264330186973
 Option 1 ID : 264330732003
 Option 2 ID : 264330732002
 Option 3 ID : 264330732001
 Option 4 ID : 264330732000
 Status : Not Answered
 Chosen Option : --

Q.14 In the following question, out of the given four alternatives, select the alternative which best expresses the meaning of the Idiom/Phrase.

To go to the devil

- Ans**
- 1. To mourn the death of a close friend
 - 2. To switch allegiance
 - 3. To be in an extremely and increasingly bad or ruinous condition
 - 4. To curse someone

Question ID : 264330186187
 Option 1 ID : 264330729005
 Option 2 ID : 264330729007
 Option 3 ID : 264330729006
 Option 4 ID : 264330729004
 Status : Not Answered
 Chosen Option : --

Q.15 Select the sentence with no spelling errors.

- Ans**
- 1. Water leakage was thoght to be a major cause of landslides.
 - 2. Water likage was thought to be a major cause of landslides.
 - 3.
Water leakage was thought to be a major cause of landslides.
 - 4.
Water leakage was thought to be a major cause of lendslides.

Question ID : **264330186778**
Option 1 ID : **264330731257**
Option 2 ID : **264330731256**
Option 3 ID : **264330731258**
Option 4 ID : **264330731259**
Status : **Not Answered**
Chosen Option : --

Comprehension:

In the following passage some words have been deleted. Fill in the blanks with the help of the alternatives given. Select the most appropriate option for each number.

For a (1) _____ Nicole stood looking down at the Mediterranean but there was (2) _____ to do with that, even with her tireless hands. Presently Dicken came out of his one-room house (3) _____ a telescope and looked east toward Cannes. In a moment Nicole swam into his field of vision, (4) _____ he disappeared into his house and came out with a megaphone. Using the megaphone, he called out to Nicole with a mix of urgency and (5) _____ in his voice, alerting her to something important happening at the shore. Nicole, startled by the sudden amplification, turned quickly, her curiosity piqued as she noticed a small crowd beginning to gather by the water's edge.

SubQuestion No : 16

Q.16 Select the most appropriate option to fill in the blank No. 1.

- Ans**
- 1. moment
 - 2. minute
 - 3. time
 - 4. occasion

Question ID : **264330186977**
Option 1 ID : **264330732014**
Option 2 ID : **264330732012**
Option 3 ID : **264330732015**
Option 4 ID : **264330732013**
Status : **Not Answered**
Chosen Option : --

Comprehension:

In the following passage some words have been deleted. Fill in the blanks with the help of the alternatives given. Select the most appropriate option for each number.

For a (1) _____ Nicole stood looking down at the Mediterranean but there was (2) _____ to do with that, even with her tireless hands. Presently Dicken came out of his one-room house (3) _____ a telescope and looked east toward Cannes. In a moment Nicole swam into his field of vision, (4) _____ he disappeared into his house and came out with a megaphone. Using the megaphone, he called out to Nicole with a mix of urgency and (5) _____ in his voice, alerting her to something important happening at the shore. Nicole, startled by the sudden amplification, turned quickly, her curiosity piqued as she noticed a small crowd beginning to gather by the water's edge.

SubQuestion No : 17

Q.17 Select the most appropriate option to fill in the blank No. 2.

- Ans**
- 1. everything
 - 2. mostly
 - 3. nothing
 - 4. something

Question ID : 264330186978

Option 1 ID : 264330732018

Option 2 ID : 264330732019

Option 3 ID : 264330732017

Option 4 ID : 264330732016

Status : Not Answered

Chosen Option : --

Comprehension:

In the following passage some words have been deleted. Fill in the blanks with the help of the alternatives given. Select the most appropriate option for each number.

For a (1) _____ Nicole stood looking down at the Mediterranean but there was (2) _____ to do with that, even with her tireless hands. Presently Dicken came out of his one-room house (3) _____ a telescope and looked east toward Cannes. In a moment Nicole swam into his field of vision, (4) _____ he disappeared into his house and came out with a megaphone. Using the megaphone, he called out to Nicole with a mix of urgency and (5) _____ in his voice, alerting her to something important happening at the shore. Nicole, startled by the sudden amplification, turned quickly, her curiosity piqued as she noticed a small crowd beginning to gather by the water's edge.

SubQuestion No : 18

Q.18 Select the most appropriate option to fill in the blank No. 3.

- Ans**
- 1. lift
 - 2. carrying
 - 3. picking
 - 4. hauling

Question ID : 264330186979

Option 1 ID : 264330732021

Option 2 ID : 264330732020

Option 3 ID : 264330732022

Option 4 ID : 264330732023

Status : Not Answered

Chosen Option : --

Comprehension:

In the following passage some words have been deleted. Fill in the blanks with the help of the alternatives given. Select the most appropriate option for each number.

For a (1) _____ Nicole stood looking down at the Mediterranean but there was (2) _____ to do with that, even with her tireless hands. Presently Dicken came out of his one-room house (3) _____ a telescope and looked east toward Cannes. In a moment Nicole swam into his field of vision, (4) _____ he disappeared into his house and came out with a megaphone. Using the megaphone, he called out to Nicole with a mix of urgency and (5) _____ in his voice, alerting her to something important happening at the shore. Nicole, startled by the sudden amplification, turned quickly, her curiosity piqued as she noticed a small crowd beginning to gather by the water's edge.

SubQuestion No : 19

Q.19 Select the most appropriate option to fill in the blank No. 4.

- Ans**
- 1. whereas
 - 2. whereupon
 - 3. wherein
 - 4. when

Question ID : **264330186980**

Option 1 ID : **264330732024**

Option 2 ID : **264330732027**

Option 3 ID : **264330732025**

Option 4 ID : **264330732026**

Status : **Not Answered**

Chosen Option : --

Comprehension:

In the following passage some words have been deleted. Fill in the blanks with the help of the alternatives given. Select the most appropriate option for each number.

For a (1) _____ Nicole stood looking down at the Mediterranean but there was (2) _____ to do with that, even with her tireless hands. Presently Dicken came out of his one-room house (3) _____ a telescope and looked east toward Cannes. In a moment Nicole swam into his field of vision, (4) _____ he disappeared into his house and came out with a megaphone. Using the megaphone, he called out to Nicole with a mix of urgency and (5) _____ in his voice, alerting her to something important happening at the shore. Nicole, startled by the sudden amplification, turned quickly, her curiosity piqued as she noticed a small crowd beginning to gather by the water's edge.

SubQuestion No : 20

Q.20 Select the most appropriate option to fill in the blank No. 5.

- Ans**
- 1. exciting
 - 2. excitation
 - 3. excite
 - 4. excitement

Question ID : **264330186981**

Option 1 ID : **264330732028**

Option 2 ID : **264330732030**

Option 3 ID : **264330732031**

Option 4 ID : **264330732029**

Status : **Not Answered**

Chosen Option : --

Section : **Part-D-Hindi**

Q.1 दिए गए वाक्य का वह भाग ज्ञात करें, जिसमें कोई त्रुटि है। यदि कोई त्रुटि नहीं है, तो 'कोई त्रुटि नहीं है' चुनें।
इस कार्य के विघ्न बनकर तुम आए हो।

- Ans
- 1. कोई त्रुटि नहीं है
 - 2. इस कार्य
 - 3. के विघ्न बनकर
 - 4. तुम आए हो।

Question ID : 264330188120
Option 1 ID : 264330736407
Option 2 ID : 264330736404
Option 3 ID : 264330736405
Option 4 ID : 264330736406
Status : Answered
Chosen Option : 3

Q.2 दिए गए वाक्य में रेखांकित शब्द के लिए सही वर्तनी ज्ञात कीजिए।

धैर्य से काम लो।

- Ans
- 1. धैर्य
 - 2. धैय
 - 3. धेय
 - 4. धार्य

Question ID : 264330188243
Option 1 ID : 264330736872
Option 2 ID : 264330736873
Option 3 ID : 264330736874
Option 4 ID : 264330736875
Status : Answered
Chosen Option : 1

Q.3 दिए गए शब्द का पर्यायवाची ज्ञात कीजिए।

पत्थर

- Ans
- 1. समीप
 - 2. पाषाण
 - 3. प्रारंभ
 - 4. पति

Question ID : 264330189153
Option 1 ID : 264330740372
Option 2 ID : 264330740373
Option 3 ID : 264330740371
Option 4 ID : 264330740370
Status : Answered
Chosen Option : 2

Q.4 निम्नलिखित प्रश्न में, चार विकल्पों में से, उस विकल्प का चयन करें जो कोष्ठक में दिए गए शब्द के तद्भव रूप का सही विकल्प है।
मेरी माताजी (कटफल) _____ की बहुत ही स्वादिष्ट सब्जी बनाती हैं।

- Ans
- 1. खीरा
 - 2. कटहल
 - 3. आलू
 - 4. करेला

Question ID : 264330189728
Option 1 ID : 264330742563
Option 2 ID : 264330742562
Option 3 ID : 264330742565
Option 4 ID : 264330742564
Status : Answered
Chosen Option : 2

Q.5 निम्नलिखित वाक्य में रेखांकित भाग के लिए एक सार्थक शब्द ज्ञात कीजिए।

इस बात को गुप्त ही रखना।

- Ans
- 1. गोपनीय
 - 2. वाचाल
 - 3. जानकारी
 - 4. समदर्शी

Question ID : 264330189256
Option 1 ID : 264330740763
Option 2 ID : 264330740765
Option 3 ID : 264330740762
Option 4 ID : 264330740764
Status : Answered
Chosen Option : 1

Q.6 दिए गए वाक्य में से गलत वर्तनी ज्ञात कीजिए।

युधिष्ठिर का राजाभिषेक होते ही चारों तरफ उल्लास छा गया।

- Ans
- 1. चारों
 - 2. उल्लास
 - 3. राजाभिषेक
 - 4. युधिष्ठिर

Question ID : 264330190083
Option 1 ID : 264330743917
Option 2 ID : 264330743915
Option 3 ID : 264330743914
Option 4 ID : 264330743916
Status : Answered
Chosen Option : 3

Q.7 निम्नलिखित वाक्य में रेखांकित भाग के लिए एक शब्द ज्ञात कीजिए।

हमारे देश ने दाल विदेश से खरीदी है।

- Ans
- 1. निर्यात
 - 2. व्यापार
 - 3. आयात
 - 4. मालवाही

Question ID : 264330188276
 Option 1 ID : 264330736997
 Option 2 ID : 264330736998
 Option 3 ID : 264330736999
 Option 4 ID : 264330736996
 Status : Answered
 Chosen Option : 3

Q.8 दिए गए शब्द का पर्यायवाची ज्ञात कीजिए।

विलोम

- Ans
- 1. उदास
 - 2. उल्टा
 - 3. निष्फल
 - 4. भोग

Question ID : 264330189489
 Option 1 ID : 264330741652
 Option 2 ID : 264330741651
 Option 3 ID : 264330741650
 Option 4 ID : 264330741653
 Status : Answered
 Chosen Option : 2

Q.9 निम्नलिखित प्रश्न में, दिए गए चार विकल्पों में से, उस विकल्प का चयन करें जो दिए गए मुहावरे के अर्थ को सर्वश्रेष्ठ रूप से व्यक्त करता है।

ग्रह उलटे हो जाना

- Ans
- 1. आश्चर्यचकित होना
 - 2. बुरा समय आना
 - 3. स्थिर न रहना
 - 4. काम बिगाड़ना

Question ID : 264330189347
 Option 1 ID : 264330741110
 Option 2 ID : 264330741111
 Option 3 ID : 264330741112
 Option 4 ID : 264330741113
 Status : Answered
 Chosen Option : 2

Q.10 दिए गए वाक्यांश के लिए सार्थक शब्द ज्ञात कीजिए।

किसी बात को जानने की इच्छा

- Ans
- ✗ 1. टकसाल
 - ✗ 2. आशावादी
 - ✓ 3. जिज्ञासा
 - ✗ 4. कल्पनाशील

Question ID : 264330189131
 Option 1 ID : 264330740289
 Option 2 ID : 264330740287
 Option 3 ID : 264330740286
 Option 4 ID : 264330740288
 Status : Answered
 Chosen Option : 3

Q.11 निम्नलिखित प्रश्न में, दिए गए चार विकल्पों में से, उस विकल्प का चयन करें जो दिए गए मुहावरे के अर्थ को सर्वश्रेष्ठ रूप से व्यक्त करता है।

अपने पैसे पर खड़ा होना

- Ans
- ✓ 1. स्वावलम्बी होना
 - ✗ 2. सिद्धांतहीन व्यक्ति
 - ✗ 3. खूब फायदा होना
 - ✗ 4. प्रशंसा करना

Question ID : 264330189199
 Option 1 ID : 264330740546
 Option 2 ID : 264330740548
 Option 3 ID : 264330740547
 Option 4 ID : 264330740549
 Status : Answered
 Chosen Option : 1

Q.12 दिए गए वाक्य में से निरर्थक शब्द ज्ञात कीजिए।

मुझे वहाँ से पेन-वेन दे दो।

- Ans
- ✓ 1. पेन-वेन
 - ✗ 2. मुझे
 - ✗ 3. दो
 - ✗ 4. वहाँ

Question ID : 264330189057
 Option 1 ID : 264330740008
 Option 2 ID : 264330740009
 Option 3 ID : 264330740007
 Option 4 ID : 264330740006
 Status : Answered
 Chosen Option : 1

Q.13 दिए गए शब्द का विलोम शब्द ज्ञात कीजिए।

इनकार

- Ans
- 1. हुक्म
 - 2. मना
 - 3. इकरार
 - 4. हैवान

Question ID : 264330188175

Option 1 ID : 264330736614

Option 2 ID : 264330736612

Option 3 ID : 264330736613

Option 4 ID : 264330736615

Status : Answered

Chosen Option : 3

Q.14 दिए गए वाक्य का वह भाग ज्ञात करें, जिसमें कोई त्रुटि है।

प्रत्येक प्राणी को स्वयं आत्म-निर्भर होना चाहिए ताकि आगे चलकर उसे कोई परेशानी न हो।

- Ans
- 1. ताकि आगे चलकर उसे
 - 2. प्रत्येक प्राणी को
 - 3. स्वयं आत्म-निर्भर होना चाहिए
 - 4. कोई परेशानी न हो।

Question ID : 264330189143

Option 1 ID : 264330740336

Option 2 ID : 264330740334

Option 3 ID : 264330740335

Option 4 ID : 264330740337

Status : Answered

Chosen Option : 3

Q.15 दिए गए वाक्य में रेखांकित शब्द का विलोम शब्द ज्ञात कीजिए।

रिक्त स्थानों की पूर्ति कीजिए।

- Ans
- 1. संदेह
 - 2. पूर्ण
 - 3. विनाश
 - 4. खाली

Question ID : 264330188260

Option 1 ID : 264330736938

Option 2 ID : 264330736937

Option 3 ID : 264330736939

Option 4 ID : 264330736936

Status : Answered

Chosen Option : 2

Comprehension:

नीचे दिए गए गद्य में कुछ शब्द छोड़ दिए गए हैं और प्रत्येक रिक्त स्थान के चार विकल्प दिए गए हैं। इन चारों में से कौन सा विकल्प रिक्त स्थान की पूर्ति करेगा-

मोटे अनाज का (1)_____ बढ़ने से जनसामान्य सहित किसानों को लाभ मिलने की बड़ी (2)_____ है। एक ओर इससे कृषि की समस्या से निपटने का नया और सरल मार्ग मिलेगा। वहीं दूसरी ओर इससे किसानों की (3)_____ दोगूनी होने का मार्ग भी प्रशस्त होगा। यही कारण है कि मोटा अनाज वर्ष में एक ओर किसानों को इन अनाजों की खेती करने के लिए (4)_____ किया जाएगा और दूसरी ओर लोगों को मोटे अनाज के महत्व से (5)_____ कराया जाएगा जिससे इनकी खपत बढ़े और किसान इनकी खेती में रूचि दिखाएं।

SubQuestion No : 16

Q.16 रिक्त1 के लिए सबसे उपयुक्त विकल्प का चयन कीजिए।

- Ans
- 1. कीमत
 - 2. प्रभाव
 - 3. प्रचलन
 - 4. इंधन

Question ID : 264330189041

Option 1 ID : 264330739945

Option 2 ID : 264330739942

Option 3 ID : 264330739943

Option 4 ID : 264330739944

Status : Answered

Chosen Option : 1

Comprehension:

नीचे दिए गए गद्य में कुछ शब्द छोड़ दिए गए हैं और प्रत्येक रिक्त स्थान के चार विकल्प दिए गए हैं। इन चारों में से कौन सा विकल्प रिक्त स्थान की पूर्ति करेगा-

मोटे अनाज का (1)_____ बढ़ने से जनसामान्य सहित किसानों को लाभ मिलने की बड़ी (2)_____ है। एक ओर इससे कृषि की समस्या से निपटने का नया और सरल मार्ग मिलेगा। वहीं दूसरी ओर इससे किसानों की (3)_____ दोगूनी होने का मार्ग भी प्रशस्त होगा। यही कारण है कि मोटा अनाज वर्ष में एक ओर किसानों को इन अनाजों की खेती करने के लिए (4)_____ किया जाएगा और दूसरी ओर लोगों को मोटे अनाज के महत्व से (5)_____ कराया जाएगा जिससे इनकी खपत बढ़े और किसान इनकी खेती में रूचि दिखाएं।

SubQuestion No : 17

Q.17 रिक्त2 के लिए सबसे उपयुक्त विकल्प का चयन कीजिए।

- Ans
- 1. समस्या
 - 2. परिणाम
 - 3. व्यंजन
 - 4. संभावना

Question ID : 264330189042

Option 1 ID : 264330739946

Option 2 ID : 264330739947

Option 3 ID : 264330739948

Option 4 ID : 264330739949

Status : Answered

Chosen Option : 4

Comprehension:

नीचे दिए गए गद्य में कुछ शब्द छोड़ दिए गए हैं और प्रत्येक रिक्त स्थान के चार विकल्प दिए गए हैं। इन चारों में से कौन सा विकल्प रिक्त स्थान की पूर्ति करेगा-

मोटे अनाज का (1)_____ बढ़ने से जनसामान्य सहित किसानों को लाभ मिलने की बड़ी (2)_____ है। एक ओर इससे कृषि की समस्या से निपटने का नया और सरल मार्ग मिलेगा। वहीं दूसरी ओर इससे किसानों की (3)_____ दोगूनी होने का मार्ग भी प्रशस्त होगा। यही कारण है कि मोटा अनाज वर्ष में एक ओर किसानों को इन अनाजों की खेती करने के लिए (4)_____ किया जाएगा और दूसरी ओर लोगों को मोटे अनाज के महत्व से (5)_____ कराया जाएगा जिससे इनकी खपत बढ़े और किसान इनकी खेती में रूचि दिखाएं।

SubQuestion No : 18

Q.18 रिक्त3 के लिए सबसे उपयुक्त विकल्प का चयन कीजिए।

- Ans
- 1. मात्रा
 - 2. पीढ़ी
 - 3. आय
 - 4. महत्व

Question ID : 264330189043

Option 1 ID : 264330739951

Option 2 ID : 264330739952

Option 3 ID : 264330739950

Option 4 ID : 264330739953

Status : Answered

Chosen Option : 3

Comprehension:

नीचे दिए गए गद्य में कुछ शब्द छोड़ दिए गए हैं और प्रत्येक रिक्त स्थान के चार विकल्प दिए गए हैं। इन चारों में से कौन सा विकल्प रिक्त स्थान की पूर्ति करेगा-

मोटे अनाज का (1)_____ बढ़ने से जनसामान्य सहित किसानों को लाभ मिलने की बड़ी (2)_____ है। एक ओर इससे कृषि की समस्या से निपटने का नया और सरल मार्ग मिलेगा। वहीं दूसरी ओर इससे किसानों की (3)_____ दोगूनी होने का मार्ग भी प्रशस्त होगा। यही कारण है कि मोटा अनाज वर्ष में एक ओर किसानों को इन अनाजों की खेती करने के लिए (4)_____ किया जाएगा और दूसरी ओर लोगों को मोटे अनाज के महत्व से (5)_____ कराया जाएगा जिससे इनकी खपत बढ़े और किसान इनकी खेती में रूचि दिखाएं।

SubQuestion No : 19

Q.19 रिक्त4 के लिए सबसे उपयुक्त विकल्प का चयन कीजिए।

- Ans
- 1. जागरूक
 - 2. स्वीकार
 - 3. अंधापन
 - 4. मोटापन

Question ID : 264330189044

Option 1 ID : 264330739956

Option 2 ID : 264330739957

Option 3 ID : 264330739954

Option 4 ID : 264330739955

Status : Answered

Chosen Option : 1

Comprehension:

नीचे दिए गए गद्य में कुछ शब्द छोड़ दिए गए हैं और प्रत्येक रिक्त स्थान के चार विकल्प दिए गए हैं। इन चारों में से कौन सा विकल्प रिक्त स्थान की पूर्ति करेगा-

मोटे अनाज का (1)_____ बढ़ने से जनसामान्य सहित किसानों को लाभ मिलने की बड़ी (2)_____ है। एक ओर इससे कृषि की समस्या से निपटने का नया और सरल मार्ग मिलेगा। वहीं दूसरी ओर इससे किसानों की (3)_____ दोगूनी होने का मार्ग भी प्रशस्त होगा। यही कारण है कि मोटा अनाज वर्ष में एक ओर किसानों को इन अनाजों की खेती करने के लिए (4)_____ किया जाएगा और दूसरी ओर लोगों को मोटे अनाज के महत्व से (5)_____ कराया जाएगा जिससे इनकी खपत बढ़े और किसान इनकी खेती में रूचि दिखाएं।

SubQuestion No : 20

Q.20 रिक्त स्थानों के लिए सबसे उपयुक्त विकल्प का चयन कीजिए।

- Ans
- 1. अधितकतर
 - 2. परिपूर्ण
 - 3. स्वीकृत
 - 4. अवगत

Question ID : 264330189045

Option 1 ID : 264330739961

Option 2 ID : 264330739959

Option 3 ID : 264330739960

Option 4 ID : 264330739958

Status : Answered

Chosen Option : 4